

ŽUPANIJSKO NATJECANJE IZ LOGIKE

12. ožujka 2015.

BODOVI:

- POTPUNO ISPRAVNO RJEŠENJE: 3 BODA
- IZOSTANAK RJEŠENJA: 1 BOD
- KRIVO ILI NEPOTPUNO RJEŠENJE: 0 BODOVA

NAPOMENA: Zadatak 3. boduje se na sljedeći način:

- POTPUNO ISPRAVNO RJEŠENJE: 6 BODOVA
- IZOSTANAK RJEŠENJA: 1 BOD
- KRIVO ILI NEPOTPUNO RJEŠENJE: 0 BODOVA

ZADATAK	BROJ BODOVA	MAX BODOVA
1.		9
2.		15
3.		30
4.		24
5.		15
6.		21
7.		51
8.		54
9.		30
UKUPNO		249

Vrijeme rješavanja testa: 100 minuta

Zadatak 1.

Šibicama su ispisane logičke formule. U sljedećim zadacima premjestite točno dvije šibice tako da ispisuju tautološku formulu. Na primjer, od konfiguracije ' $P \wedge \neg P$ ':



možemo dobiti tautološku formulu ' $P \vee \neg P$ ':



premještanjem dviju šibica koje su tvorile znak konjunkcije tako da sada tvore znak disjunkcije.

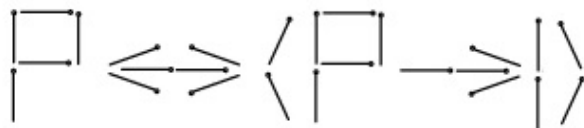
Analogno pristupite rješavanju sljedećih zadataka. Od jednostavnih iskaza koristite samo P , S i I , a od veznika konjunkciju, disjunkciju, implikaciju, ekvivalenciju i negaciju. Veznik ekvivalencije uvijek se sastoji od šest šibica, P i S uvijek se zapisuju s pomoću pet šibica, veznik implikacije s pomoću četiri šibice, dok se I te veznici disjunkcije, konjunkcije i negacije zapisuju koristeći dvije šibice. Rješenja je dovoljno zapisati formulama, ali možete ih zapisati i šibicama. U slučaju više mogućih rješenja dovoljno je navesti jedno.

a) $P \vee \neg S$



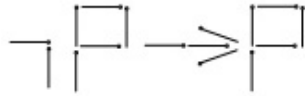
Rješenje: _____

b) $P \leftrightarrow (P \rightarrow I)$



Rješenje: _____

c) $\neg P \rightarrow P$



Rješenje: _____

(3×3 boda = 9 bodova)

Zadatak 2.

Ludwig Wittgenstein, jedan od vrlo značajnih logičara dvadesetoga stoljeća, prvo je završio studij aeronautike, a za filozofiju se zainteresirao kasnije pa je otišao studirati na Cambridge kod Bertranda Russella. Kako je smatrao da bi mu život u izolaciji više odgovarao za znanstveni rad od onoga na Cambridgeu, zamolio je Georgea Edwarda Moorea (filozofa koji je također u to vrijeme radio na Cambridgeu) da se založi na sveučilištu da njegovu raspravu o logici (rad koji je prethodio vrlo značajnomu djelu *Tractatus Logico-Philosophicus*) prihvate kao diplomsku radnju. Kad ga je Moore obavijestio da njegovu raspravu sveučilišne vlasti neće priznati kao diplomsku radnju jer nije priložena u primjerenome formatu, s obveznim uvodom, fusnotama i tomu sličnom, Wittgensteinova je reakcija navodno glasila: "Ako nisam vrijedan toga da zbog mene napravite iznimku barem u nekim glupim detaljima, onda mogu ravno u pakao; a ako jesam toga vrijedan, a vi to ne učinite, onda - Boga mi - u pakao možete vi."

Ako Wittgensteinovu izjavu uzmemo kao premisu, odredite s kojim od ponuđenih sudova kao konkluzivnim sudovima ona tvori valjan zaključak (upišite 'da' ili 'ne' na prazne crte):

- Vrijedan sam toga da zbog mene napravite iznimku barem u nekim glupim detaljima i učinit ćete iznimku. _____
- Samo ako sam vrijedan toga da zbog mene napravite iznimku barem u nekim glupim detaljima, onda ćete učiniti iznimku, a ako nisam vrijedan toga da zbog mene napravite iznimku barem u nekim glupim detaljima, onda nećete učiniti iznimku. _____
- Vrijedan sam ili nisam vrijedan toga da zbog mene napravite iznimku barem u nekim glupim detaljima. _____
- Mogu ići ravno u pakao ili sam vrijedan toga da zbog mene napravite iznimku barem u nekim glupim detaljima. _____
- Nisam vrijedan toga da zbog mene napravite iznimku barem u nekim glupim detaljima ili mogu ići ravno u pakao. _____

(5×3 boda = 15 bodova)

Zadatak 3.

NAPOMENA: Svaki potpuno točno riješeni podzadatak u zadatku 3. nosi šest bodova. Svaki netočno ili djelomično točno riješeni podzadatak nosi nula bodova, a svako izostavljeno rješenje jedan bod.

a) Od dolje navedenih iskaza zaokružite one koji tvore **najveći zadovoljiv (konzistentan) skup iskaza** (skup iskaza koji mogu biti istovremeno istiniti).

1. $P \wedge Q$

4. $R \rightarrow \neg P$

2. $Q \rightarrow R$

5. $Q \wedge \neg R$

3. $P \rightarrow \neg R$

6. $P \wedge \neg P$

b) Navedite **parove** iskaza iz podzadatka a) koji međusobno nisu zadovoljivi, odnosno koji **ne mogu** zajedno tvoriti zadovoljiv skup iskaza. Par predstavite brojevima iskaza, u zagradama i razdvojene zarezom, tako da prvi broj ne smije biti veći od drugoga.

Primjer. Par iskaza 7 i 8 bio bi predstavljen kao '(7,8)', te ne bi bilo potrebno ni dopušteno navesti par '(8,7)'.

Rješenje: _____

c) Navedite brojeve iskaza iz podzadatka a) koje tvore nezadovoljive trojke (skupove od tri iskaza koji ne mogu biti istovremeno istiniti ni za jedno vrednovanje), a da pritom u trojci ne postoje dva iskaza koji su međusobno nezadovoljivi. Pri zapisivanju trojki slijedite uputu danu u podzadatku b).

Rješenje: _____

d) Od dolje navedenih iskaza zaokružite one koje tvore **najmanji nezadovoljiv skup**. Zaokružite barem jedan odgovor.

1. $\neg(P \rightarrow Q)$

4. $\neg P$

2. $P \vee Q$

5. $\neg Q$

3. $\neg(\neg P \wedge Q)$

e) Nadopunite rečenicu: S obzirom na istinitost, zakon neprotuslovlja i zakon isključenja srednjega primjeri su _____ iskaza.

(5×6 bodova = 30 bodova)

Zadatak 4.

a) Istinitosne se tablice koriste kako bi se odredile istinitosne vrijednosti formule za sve interpretacije. Uporabu istinitosnih tablica u iskaznoj logici inicirali su radovi koje su 1921. godine objavila dvojica logičara, ali nezavisno jedan od drugoga. O kojim je logičarima riječ?

Odgovor: O _____ i _____.

Svaki točno navedeni logičar donosi 3 boda.

b) U polja prvoga retka tablice upišite odgovarajući jednostavni iskaz ili veznik (i možda lijevu ili desnu zagradu) s obzirom na navedene istinitosne vrijednosti ispod zadanoga polja. U tablicu upišite i istinitosne vrijednosti koje nedostaju. **Rješenje se priznaje ako i samo ako su sva polja u tablici točno ispunjena.**

Niz upisanih odgovora u prvome retku mora biti takav da tvori pravilno sastavljenu formulu. **Lijeve se zagrade upisuju u polje najbližega simbola desno od njih, a desne u polje najbližega simbola lijevo od njih. U tablicama se pojavljuju svi i samo oni jednostavni iskazi koji su navedeni na vrhu pomoćnih stupaca (lijevo u tablici).** Podebljana slova označavaju stupac s glavnim veznikom u formuli. U formulama se mogu pojavljivati veznici negacije, konjunkcije, disjunkcije, implikacije i ekvivalencije.

P	Q				\leftrightarrow				
I	I	N		I	I				
I	N	N		N	I				
N	I	I		I	I				
N	N	I		I	I				

c) Sukladno uputi u podzadatku b) popunite i sljedeću tablicu:

P	Q								
I	I	N		N		N	N		
I	N	N		N		I	I		
N	I	I		I		I	N		
N	N	I		N		N	N		

d) U tablici se nalaze dvije formule (odvojene dvostrukom okomitom crtom). Pronađite formule i vrijednosti koje nedostaju u tablici, a zatim odredite slijedi li desna formula iz lijeve.

Napomena: Svaka točno zapisana formula zajedno s pripadajućim istinitosnim vrijednostima nosi tri boda. Tekstni se odgovor priznaje ako i samo ako je cijela tablica u podzadatku **d)** točno riješena i tada nosi tri boda. Dakle, podzadatak **d)** ukupno nosi devet bodova.

P	Q	R												
I	I	I	I	N			I	N		I	N		I	I
I	I	N	I	N			I	I		N	N		I	I
I	N	I	I	I			N	N		I	I		N	I
I	N	N	I	I			I	I		N	N		N	I
N	I	I	N	N			I	N		I	N		I	I
N	I	N	N	N			I	I		N	N		I	I
N	N	I	N	N			I	N		I	I		N	N
N	N	N	N	N			I	I		N	N		N	I

Zaokružite točan odgovor: Desna formula *slijedi* / *ne slijedi* iz lijeve.

e) U istinitosnim tablicama u podzadacima **b)** i **c)** pojavljuju se dva jednostavna iskaza i tablice imaju četiri retka. U tablici u podzadatku **d)** nalaze se tri jednostavna iskaza i tablica ima osam redaka. Koliko bi redaka imala tablica u kojoj se nalazi n jednostavnih iskaza?

Odgovor: _____.

(8×3 boda = 24 boda)

Zadatak 5.

a) Zadana su tri tautološka iskaza u kojima je svaki od veznika $\{\neg, \wedge, \vee, \rightarrow, \leftrightarrow\}$ predstavljen jednim brojem od 1 do 5. Upišite u tablicu koji broj predstavlja koji veznik.

1. $1 \ 1 \ P \ 3 \ P$

2. $(P \ 4 \ Q) \ 5 \ (P \ 2 \ 1 \ Q)$

3. $1 \ (P \ 2 \ 1 \ P)$

Veznik	Broj
\neg	
\wedge	
\vee	
\rightarrow	
\leftrightarrow	

b) Koristeći tablicu iz prethodnoga zadatka odredite jesu li sljedeći iskazi tautološki, zadovoljivi (ali ne i tautološki) ili kontradiktorni.

1. $(P \ 2 \ Q) \ 5 \ (1 \ P \ 2 \ Q) \ 5 \ (1 \ P \ 2 \ 1 \ Q)$ _____

2. $(P \ 2 \ 1 \ Q) \ 3 \ 1 \ (P \ 4 \ Q)$ _____

3. $(P \ 4 \ Q) \ 5 \ ((P \ 5 \ R) \ 4 \ (Q \ 5 \ R))$ _____

c) Rečenicu iz podzadatka b) 2. zapišite koristeći samo veznike disjunkcije i negacije i jednostavni iskaz P . Rješenje mora biti minimalno, odnosno sadržavati najmanji mogući broj veznika disjunkcije i negacije.

Rješenje: _____

(5×3 boda = 15 bodova)

Zadatak 6.

Simetrijom dane formule iskazne logike nazivamo formulu dobivenu zamjenom jednostavnih iskaza u formuli: prvoga s posljednjim, drugoga s pretposljednjim i tako redom sve dok nije izvršena zamjena svih jednostavnih iskaza u formuli. Ako je broj pojavaka jednostavnih iskaza u formuli neparan, središnji jednostavni iskaz ostaje nepromijenjen. Formula je *simetrična* ako je **logički ekvivalentna** svojoj simetriji; inače je *asimetrična*.

Primjeri.

Formula	Simetrija	Simetrična
P	P	da
$P \wedge \neg Q$	$Q \wedge \neg P$	ne
$((P \wedge Q) \wedge R) \wedge (S \wedge P)$	$((P \wedge S) \wedge R) \wedge (Q \wedge P)$	da

a) Odredite jesu li sljedeće formule simetrične.

Formula	Simetrična (DA/NE)
$\neg P \rightarrow P$	
$(P \leftrightarrow \neg Q) \leftrightarrow \neg S$	
$\neg P \wedge S$	
$(P \rightarrow S) \rightarrow S$	
$(P \leftrightarrow S) \leftrightarrow Q$	
$(P \wedge S) \leftrightarrow S$	

b) Koje su formule simetrične među onima u kojima se pojavljuje samo jedan jednostavni iskaz, na primjer $P \wedge \neg P$? Zaokružite točan odgovor.

1. Sve takve formule
2. Tautologije (i samo one)
3. Netautološke formule (i samo one)

(7×3 boda = 21 bod)

Zadatak 7.

a) Koristeći se samo osnovnim pravilima dopunite sljedeći dokaz iskazima i, desno, potpunim opravdanjima. U opravdanjima upotrijebite ‘pretp.’ za ‘pretpostavka’, ‘u’ za ‘uvođenje’, ‘i’ za ‘isključenje’, i veznike \neg , \wedge , \vee , \rightarrow , \leftrightarrow (npr. ‘ \wedge u’ za ‘uvođenje konjunkcije’).

1	$\neg(A \wedge B)$	pretp.
2	_____	_____
3	_____	_____
4	_____	_____
5	_____	_____
6	_____	_____
7	A	6, i \neg
8	_____	_____
9	_____	_____
10	_____	_____
11	_____	_____
12	B	_____
13	_____	_____
14	_____	_____
15	_____	_____
16	$\neg A \vee \neg B$	_____

b) Sljedeći tekst govori o zakonu dvojine. Nadopunite ga pojmovima koji nedostaju i između dva navedena pojma odaberite odgovarajući.

Iskazi koji sadrže samo veznike _____, disjunkcije i negacije ponašaju se prema zakonu dvojine. Prema tom zakonu, ako se zamijene svi veznici disjunkcije veznicima _____ i obrnuto, te ako se ispred svakoga pojavljivanja jednostavnoga iskaza dodaju veznici _____, dobiva se formula koja je *jednake / oprečne* istinitosne vrijednosti. Na primjer, na opisani se način od iskaza $A \wedge \neg B$ dobiva iskaz $\neg A \vee \neg \neg B$.

c) Razvrstajte sljedeća pravila dokazivanja na osnovna i izvedena: uvođenje disjunkcije, modus ponens, isključenje konjunkcije, De Morganov zakon, opetovanje, zakon isključenja srednjega, hipotetički silogizam.

Osnovna pravila: _____

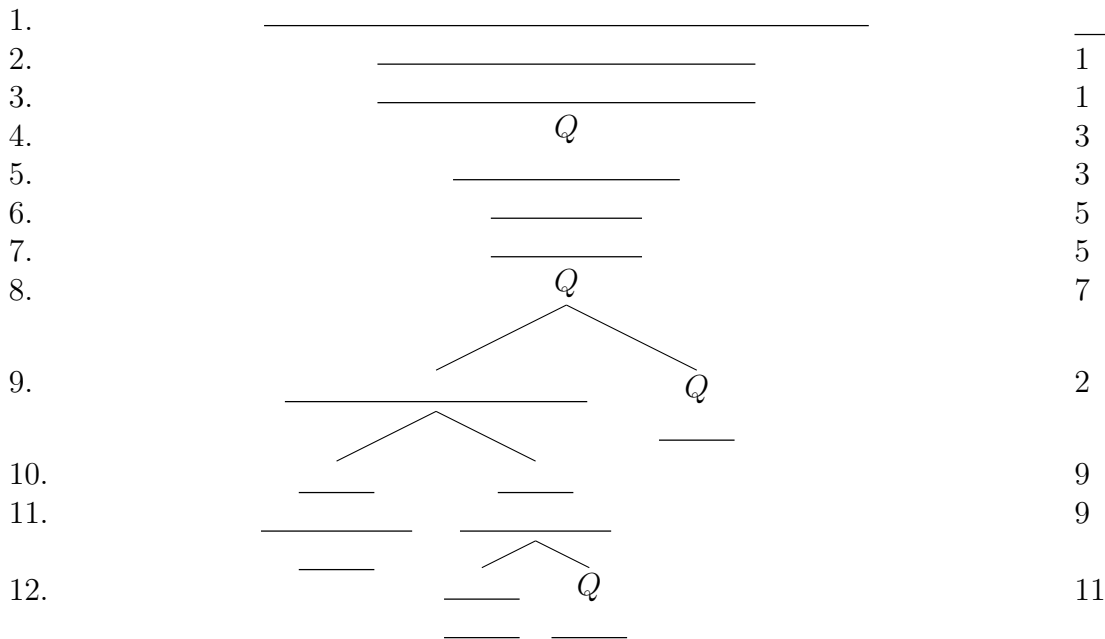
Izvedena pravila: _____

(17×3 boda = 51 bod)

Zadatak 8.

Zadan je sljedeći iskaz: $((P \leftrightarrow (P \rightarrow Q)) \rightarrow Q) \rightarrow (Q \rightarrow (P \vee \neg Q))$. Provjerite je li iskaz valjan tako što ćete nadopuniti istinitosno stablo iskazima s kvačicom ili bez nje, brojkama, križićima ili kružićima te odgovorite na postavljeno pitanje.

a)



b) Na temelju istinitosnoga stabla možemo zaključiti da je iskaz u podzadatku a):

1. valjan
2. zadovoljiv
3. nezadovoljiv
4. nevaljan

(18×3 boda = 54 boda)

Zadatak 9.

Vratimo se daleko u prošlost kada nije bilo računala, tableta i mobitela pa su se stanovnici dvoraca zabavljali na druge načine. Jedan je od njih bio otkrivanje toga tko se skrio u mnogobrojnim odajama dvorca.

a) U zapadnom se krilu nekoga starog dvorca nalaze dvije zaključane sobe. U svakoj se od njih može nalaziti mačka ili vještica. Postoji mogućnost da je u obje sobe mačka, u obje vještica, ili u jednoj mačka, a u drugoj vještica. Na vratima svake sobe nalazi se po jedan natpis. Sigurno znamo da su ili oba natpisa istinita ili oba lažna. Ovo su natpisi:

Na sobi 1:

Na sobi 2:

Tko je u kojoj sobi?

Soba 1 _____

Soba 2 _____

b) U istočnom se krilu istoga dvorca nalaze tri zaključane sobe u kojima se mogu nalaziti mačka, vještica ili soba može biti prazna. U ovom se krilu dvorca krije samo jedna mačka i samo jedna vještica, stoga se nijedna od njih ne može nalaziti u više od jedne sobe. Na vratima soba nalaze se natpisi. Sigurno znamo da ako se u prostoriji nalazi vještica, onda je natpis na vratima te sobe istinit, a ako je u sobi mačka, onda je natpis lažan. Ako je pak soba prazna, onda ne znamo je li natpis istinit ili lažan. Ovo su natpisi:

Na sobi 1:

Na sobi 2:

Na sobi 3:

Tko je u kojoj sobi? (Ako je soba prazna, to također napišite.)

Soba 1 _____

Soba 2 _____

Soba 3 _____

c) U kuli se istoga dvorca nalaze dvije zaključane sobe u kojima se mogu nalaziti zmaj ili princeza. Postoji mogućnost da se u obje sobe nalazi zmaj, u obje princeza, ili u jednoj zmaj, a u drugoj princeza. Na svakim se vratima nalazi natpis. Uvjeti istinitosti natpisa jesu sljedeći:

- za natpis na sobi 1: Ako je u sobi princeza, natpis je istinit, a ako je u sobi zmaj, natpis je lažan.
- za natpis na sobi 2: Ako je u sobi zmaj, natpis je istinit, a ako je u sobi princeza, natpis je lažan.

Ovo su natpisi:

Na sobi 1:

Na sobi 2:

Tko je u kojoj sobi?

Soba 1 _____

Soba 2 _____

d) Uvjeti su isti kao i u podzadatku c). No, postoji mogućnost da je netko zamijenio natpise na vratima pa više **ne znamo koji pripada kojim vratima.**

Ovo su natpisi:

a.

b.

Tko je u kojoj sobi?

Soba 1 _____

Soba 2 _____

Nadopunite rečenicu: Vratima sobe 1 pripada natpis _____, a vratima sobe 2 pripada natpis _____.

(10×3 boda = 30 bodova)